

Θέμα 2^ο

2.1.

α) Οι πληροφορίες που ακολουθούν αφορούν στα στοιχεία Χ και Ψ.

- Το ιόν X^{2+} έχει 10 ηλεκτρόνια.

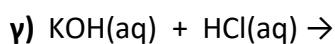
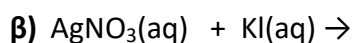
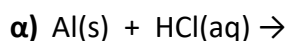
- Το στοιχείο Ψ βρίσκεται στην 2^η περίοδο και στην 17^η (VIIA) ομάδα του Περιοδικού Πίνακα.

Να υπολογίσετε τους ατομικούς αριθμούς των στοιχείων Χ και Ψ. (μονάδες 9)

β) Να ονομαστούν οι χημικές ενώσεις : KNO_3 , HCl , $Ca(OH)_2$. (μονάδες 3)

Μονάδες 12

2.2. Να συμπληρώσετε τις χημικές εξισώσεις (προϊόντα και συντελεστές) των παρακάτω αντιδράσεων που γίνονται όλες:



(μονάδες 9)

Να αναφέρετε τον λόγο που γίνονται οι αντιδράσεις **α** και **β**. (μονάδες 4)

Μονάδες 13