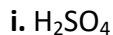


Θέμα 2^ο

2.1.

α) Να υπολογιστούν οι αριθμοί οξείδωσης του θείου (S) στις παρακάτω ουσίες:



(μονάδες 4)

β) Δίνεται : χλώριο, $^{35}_{17}\text{Cl}$

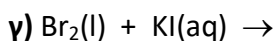
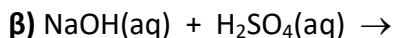
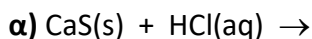
i. Να γράψετε πόσα πρωτόνια, νετρόνια και ηλεκτρόνια υπάρχουν στο άτομο του χλωρίου. (μονάδες 2)

ii. Να γράψετε την κατανομή των ηλεκτρονίων σε στιβάδες για το άτομο του χλωρίου. (μονάδες 2)

iii. Να προσδιορίσετε σε ποια ομάδα και σε ποια περίοδο του Περιοδικού Πίνακα βρίσκεται το χλώριο. (μονάδες 4)

Μονάδες 12

2.2. Να συμπληρώσετε τις χημικές εξισώσεις (προϊόντα και συντελεστές) των παρακάτω αντιδράσεων, που γίνονται όλες.



(μονάδες 9)

Να αναφέρετε τον λόγο που γίνονται οι αντιδράσεις **α** και **γ**. (μονάδες 4)

Μονάδες 13